

# Vocabulaire.

## La faune marine

Voici la liste des mots à retrouver dans la grille.

ANÉMONE	CRABE	HUÎTRE	PALOURDE
ASTÉRIE	CREVETTE	MER	PATELLE
ASTÉRINE	CRUSTACÉ	MOLLUSQUE	POISSON
BIGORNEAU	GIBULE	MOULE	ÉTRILLE
BLENNIE	GOBIE	MÉDUSE	
COQUE	GOËLAND	OURSIN	


M	C	F	H	G	A	E	N	J	E	E	F	F	B	N
É	R	Z	U	R	L	O	W	L	I	M	X	C	C	E
D	A	Q	A	L	S	B	U	R	E	Y	E	Q	L	D
U	B	P	E	S	W	O	É	O	T	T	E	L	N	Z
S	E	T	I	E	M	T	E	U	T	I	I	A	C	Q
E	A	O	I	E	S	D	A	E	N	R	L	E	R	N
P	P	B	U	A	R	E	V	N	T	È	L	A	U	H
W	O	Q	B	U	N	E	E	É	O	U	X	S	S	U
G	O	C	O	R	R	L	D	G	B	O	Q	T	T	Î
C	F	L	O	C	B	W	Y	I	O	X	V	É	A	T
Q	A	G	T	G	Q	B	G	N	K	G	K	R	C	R
P	I	J	M	O	L	L	U	S	Q	U	E	I	É	E
B	O	U	R	S	I	N	U	M	R	O	Z	N	Y	G
K	A	N	É	M	O	N	E	E	Y	N	H	E	W	C
W	E	P	T	Z	D	E	M	Y	D	U	H	E	X	T

# Leveil géographique

## LIRE

### Un paysage rural

#### Lire seul(e)



#### Comprendre

- Colorie :
  - en bleu clair, le ciel ;
  - en marron, les champs cultivés ;
  - en vert clair, les prairies ;
  - en bleu foncé, le cours d'eau ;
  - en vert foncé, les forêts ;
  - en jaune, les habitations.
- Où est placé l'observateur ? .....
- Complète le tableau en écrivant *Vrai* dans la colonne qui convient.

	Premier plan	Second plan	Arrière-plan
On aperçoit des drapeaux à la façade de la mairie.	.....	.....	.....
Les champs s'étendent à perte de vue.	.....	.....	.....
Une petite rivière traverse le village.	.....	.....	.....

#### Échanger

Vérifiez ensemble les réponses données dans le tableau. Ensuite, recherchez d'autres éléments caractéristiques des trois plans.

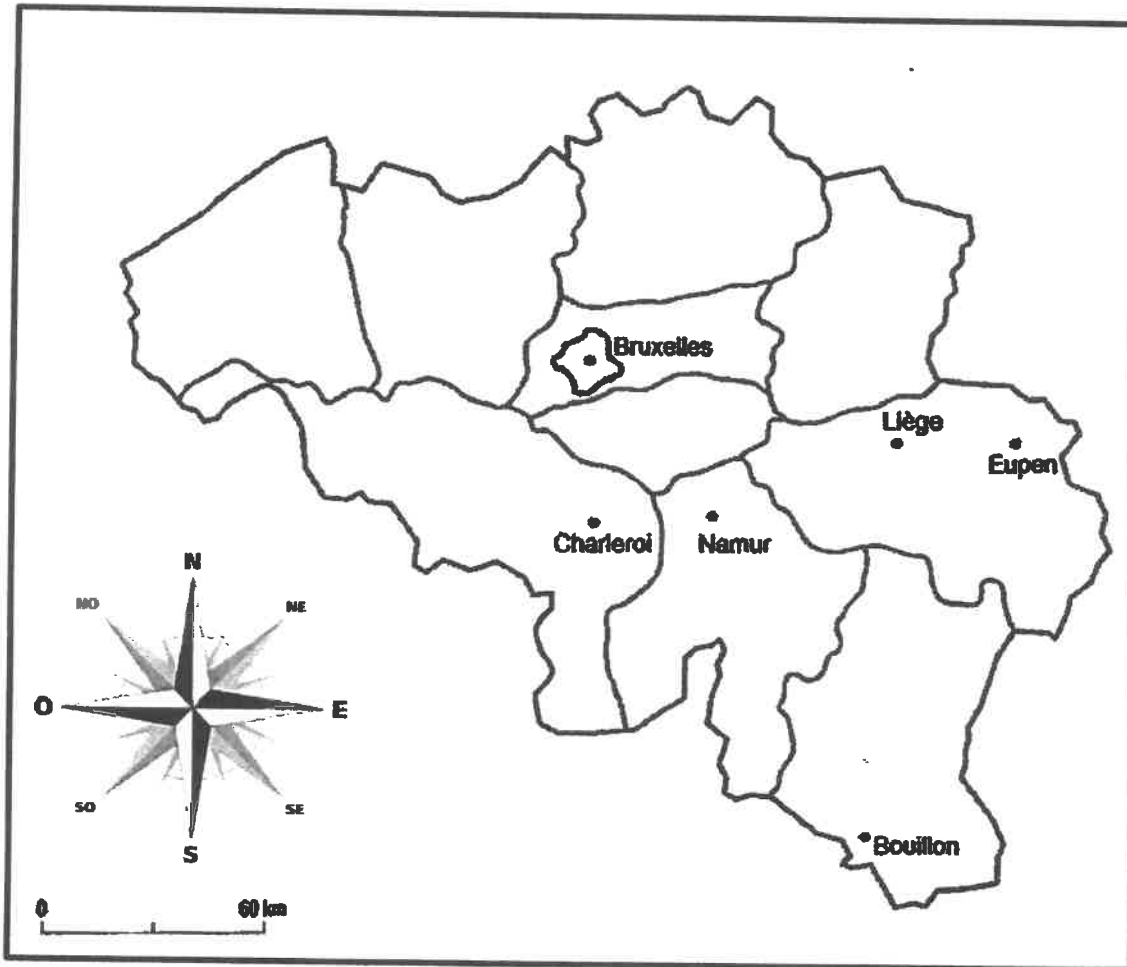
# Exercice géographique : Je me situe.

**OBSERVE** la carte de Belgique ci-dessous.

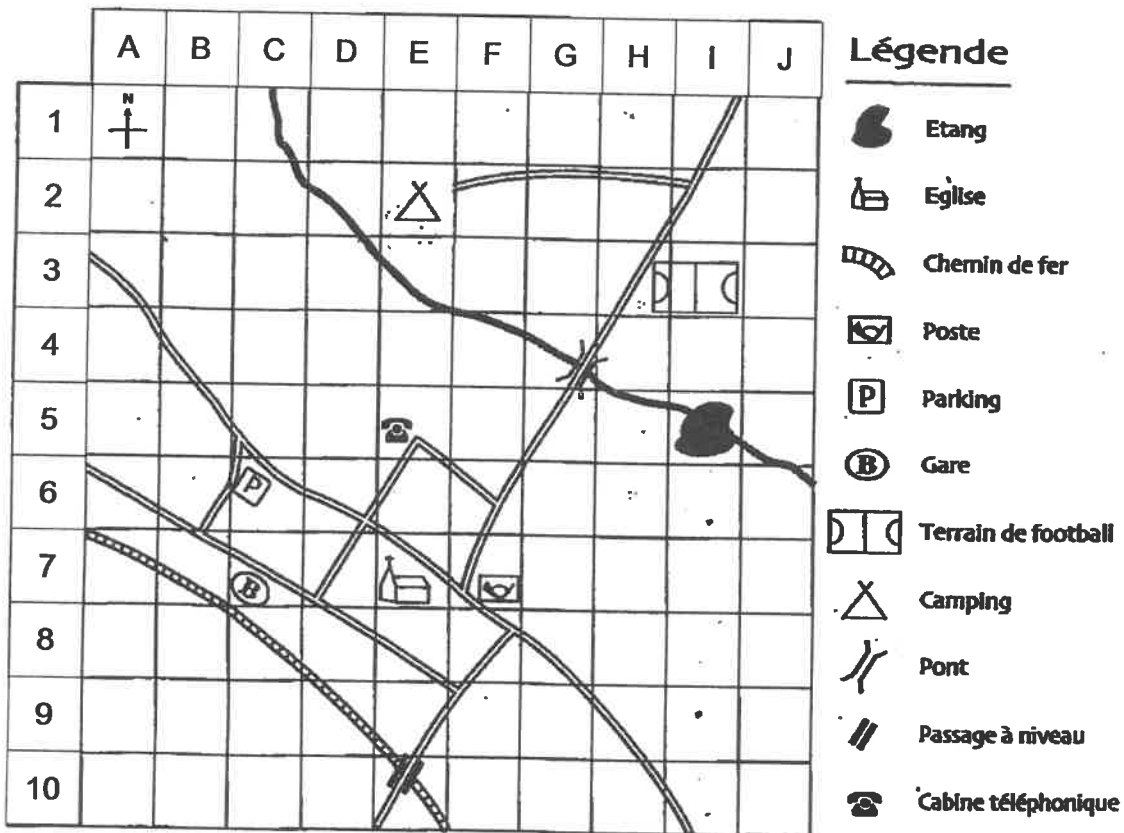
**TROUVE** la direction idéale à prendre pour relier les 2 villes proposées.

**INDIQUE** ton choix par une croix.

	je me dirige vers le Nord	je me dirige vers le Sud	je me dirige vers l'Est	je me dirige vers l'Ouest
<b>Pour aller ...</b>				
<b>de Liège à Namur,</b>				
<b>de Namur vers Bruxelles,</b>				
<b>de Bruxelles vers Eupen,</b>				
<b>de Charleroi à Eupen,</b>				



Situer sur le plan. A l'aide des chiffres et des lettres, **REPÈRE** facilement les éléments figurant sur le plan.



**COMPLÈTE** le tableau et **SITUE** les éléments.

Éléments	Pictogramme correspondant	Case du plan
Ex. : la gare	<b>(B)</b>	<b>C7</b>
Le parking		
La poste		
Le pont		
Le terrain de football		
L'étang		
Le camping		