

Travail du 07 mai 2020

1. CALCULS

À l'aide des rectangles que tu as fait (exercice 1 du jour d'avant) complète la table de 5

$$0 \times 5 = \dots 0 \dots \quad 1 \times 5 = \dots 5 \dots \quad 2 \times 5 = \dots 10 \dots$$

$$3 \times 5 = \dots 15 \dots \quad 4 \times 5 = \dots 20 \dots \quad 5 \times 5 = \dots 25 \dots$$

$$6 \times 5 = \dots 30 \dots \quad 7 \times 5 = \dots 35 \dots \quad 8 \times 5 = \dots 40 \dots$$

$$9 \times 5 = \dots 45 \dots \quad 10 \times 5 = \dots 50 \dots$$

2. LE NOMBRE 30

Aide-toi du tapis de 30 et des arbres de 30 pour compléter les calculs.

$$1 \times \dots 30 \dots = 30$$

$$2 \times \dots 15 \dots = 30$$

$$3 \times \dots 10 \dots = 30$$

$$5 \times \dots 6 \dots = 30$$

$$6 \times \dots 5 \dots = 30$$

$$10 \times \dots 3 \dots = 30$$

$$15 \times \dots 2 \dots = 30$$

$$30 \times \dots 1 \dots = 30$$

$$30 : 1 = \dots 30 \dots$$

$$30 : 2 = \dots 15 \dots$$

$$30 : 3 = \dots 10 \dots$$

$$30 : 5 = \dots 6 \dots$$

$$30 : 6 = \dots 5 \dots$$

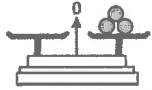
$$30 : 10 = \dots 3 \dots$$

$$30 : 15 = \dots 2 \dots$$

$$30 : 30 = \dots 1 \dots$$

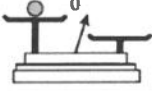
3. GRANDEURS

1 Combien faut-il de balles ?



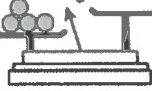
1	3	5
---	---	---

2 Combien faut-il de balles ?



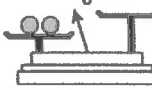
0	1	2
---	---	---

3 Combien faut-il de balles ?




2	4	6
---	---	---

6 Combien faut-il de balles ?



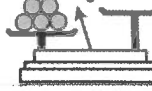
0	2	4
---	---	---

7 Combien faut-il de balles ?



3	5	7
---	---	---

8 Combien faut-il de balles ?



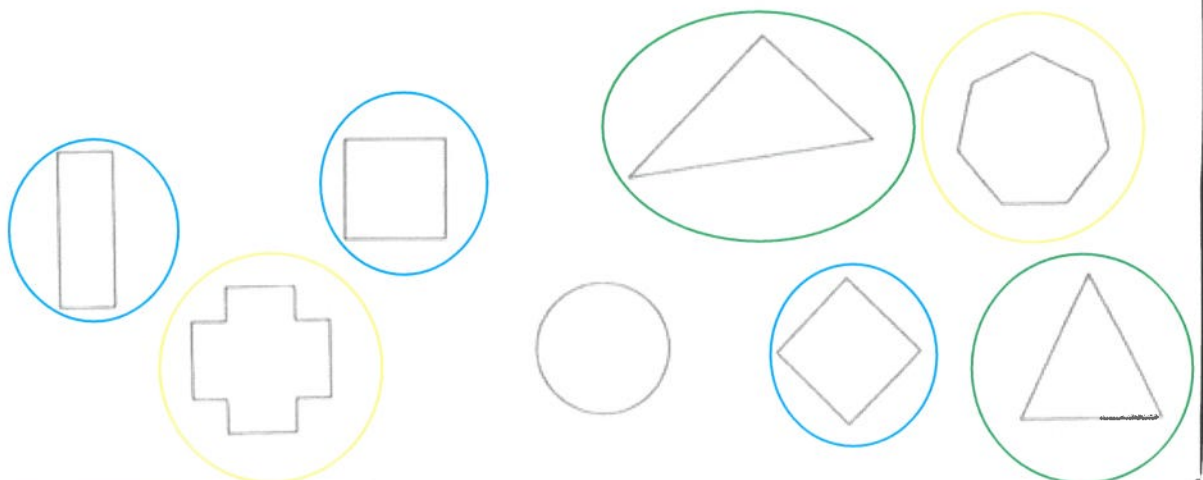
3	5	7
---	---	---

4. SOLIDES ET FIGURES

Colorie, en bleu, les figures qui ont 4 côtés.

Colorie, en vert, celles qui ont 3 côtés.

Colorie, en jaune, celles qui ont plus de 4 côtés.



5. LECTURE



Le zoo Zazou accueille une famille de paresseux à trois doigts. Ils sont originaires du Costa Rica. Isidor est le plus jeune mâle de la famille. Il pèse 4 kilogrammes et mesure 50 centimètres. Son père est très inquiet, car depuis son arrivée au zoo, Isidor est loin d'être calme...c'est un paresseux hyperactif! Il court partout et il fait le singe. Son agitation empêche les autres paresseux de dormir. Il doit avoir mangé des bananes pendant le transport. Pour se calmer, il doit uniquement manger des feuilles. Ainsi, Isidor devient lent et calme comme les autres.



Fiche vétérinaire - Clinique vétérinaire Levet Inc.



Encerle la bonne réponse.

1. Nom de l'animal:	 <input type="text" value="Isidor"/>
2. Nom du zoo:	a) Zouzou b) Zozoo c) Zouza d) Zazou
3. Sexe:	a) mâle  b) femelle 
4. Espèce:	a) paresseux à deux doigts b) paresseux à trois doigts
5. Pays d'origine:	a) Canada b) Costa Rica c) États-Unis d) Chine
6. Taille:	a) 4 centimètres b) 40 centimètres c) 50 centimètres
7. Poids:	a) 2 kilogrammes b) 4 kilogrammes c) 50 livres
8. Problème:	a) paresse b) peur du noir c) hyperactivité
9. Ce qu'il a mangé:	a) bananes b) bleuets c) pommes d) insectes
10. Traitement:	a) manger des insectes 

6. ECRITURE

On a oublié de mettre les **points**. Ajoute-les.

Maman offre des fleurs à son
amie. Elle les met dans un vase.

On a oublié les **majuscules** à certains mots. Entoure les lettres qui doivent être en majuscule.

un animal est entré dans la chambre à coucher de mon frère. il a eu très peur.

7. GRAMMAIRE


Ecris les mots dans les cases correspondantes comme les 2 exemples.

douze grains / deux cartes / des lacets / le joueur / un dé / la table

	Singulier	Pluriel
Masculin	Un grain <i>le joueur</i> <i>un dé</i>	<i>des lacets</i> <i>douze grains</i>
Féminin	La pioche <i>la table</i>	<i>deux cartes</i>

8. EVEIL GÉOGRAPHIQUE

Observe cette photo.



Coche la bonne description.



maisons
prairies
voitures
poteaux électriques



maisons
arbres
pont
panneaux de signalisation



maisons
arbres
voitures
passage pour piétons